

資料 2

訓練適応確認問題（案）

訓練適応確認問題（案）

訓練コース名 _____ 受付番号 _____ 氏名 _____

【問題 1】

以下の問題を計算し、その答えを下の解答欄に記入してください。（1点×5）

(1) $1/2 + 1/3$

(2) $1/3 - 1/4$

(3) $2/3 \times 3/4$

(4) $3/5 \div 3/4$

(5) $5 \times 5 - 4 \times 4$

(解答欄)

(1)	(2)	(3)	(4)	(5)
-----	-----	-----	-----	-----

【問題 2】

ある会社の始業時刻は8時45分で、昼の休憩時間が12時15分から45分間あります。現在の時刻は午後2時20分ですが、始業時刻から現在の時刻までに勤務した時間は何分間ですか。その答えを下の解答欄に記入してください。（5点）

(解答欄)

分間

【問題 3】

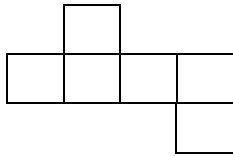
ある家庭での先月（30日間）の電気料金は9,600円でした。今月（31日間）は原油価格の高騰により月額電気料金に5%付加されます。この家庭での今月の1日あたりの平均電気使用量は、先月の1日あたりの平均電気使用量と同じとした場合、今月の電気料金はいくらになりますか。その答えを解答欄に記入してください。（5点）

(解答欄)

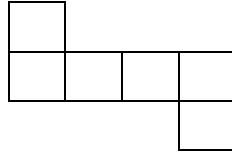
円

【問題 4】

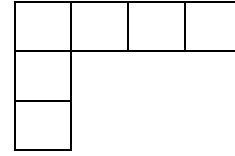
次の図形（AからE）のうち、さいころ（正六面体）の展開図でないもの（さいころにならないもの）はどれですか。その記号を下の解答欄に記入してください。（5点）



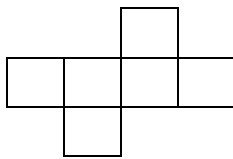
A



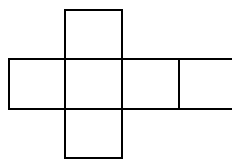
B



C



D



E

(解答欄)

--

【問題 5】

次の免許・資格名称群（A～E）のうち、どれか1つの免許または資格の概要（内容）を教えてください。その答えを下の解答欄に資格の名称とその概要を記入してください。（5点）

(免許・資格名称群)

- A. 電気工事士 B. 消防設備士 C. ボイラー技士 D. 危険物取扱者
E. 冷凍機械責任者

(解答欄)

(免許・資格名称)	(概要)

【問題 6】

次の写真の工具名称と用途を教えてください。その答えを下の解答欄に記入してください。(5点)

(ドライバの写真)

(解答欄)

(工具名称)	(用途)

【問題 7】

次の文章は、訓練コースの概要を記述したものです。()内の①から⑤のうち、空白には適当なことばを下記選択肢から選び、ひらがなは漢字に、漢字はひらがなにしておいて文章を完成させてください。その答えは下の解答欄に記入してください。(1点×5)

「ビルに設置されている設備を最適な状態に(①)するために、各種設備の動作原理、(②)方法や取扱いに関する知識と技能を習得します。具体的には、ビル等の建築物の(③)設備のメンテナンス作業とパソコンを用いた報告書作成やデータ解析、ビル等の冷暖房・空調設備、(④給排水)衛生設備や消防防災設備の(④保全)及び(⑤)ができる知識と技術が習得できます。」

(選択肢)

制御、保持、操作、動作、始動、停止、機械、電機、電気、電器、受電、防災、消防、管理、維持、保守、保全、設置

(解答欄)

①	②	③	④	⑤
---	---	---	---	---

【問題 8】

訓練コース（科）の訓練修了（目標としている知識・技能・技術を習得）後に就職可能な職種または職業を知っているだけ教えてください。その答えは下の解答欄に記入してください。（5点）

（解答欄）

--

【問題 9】

あなたが最も就職したい職業は、どんな職業ですか。また、あなたがその職業に就くためには、どのような取り組みを考えていますか。その職業と取り組みを下の解答欄に記入してください。（5点）

（解答欄）

（職業）
（取り組み）

【問題 10】

あなたは5年後、どのような職業生活を送りたいと考えていますか。その考えを下の解答欄に箇条書きで記入してください。（5点）

（解答欄）

--